



EXERCICES SUR LA PROPORTIONNALITÉ

Exercice 1

La farine, les oeufs et le lait sont les principaux ingrédients de la pâte à crêpes.

1) Compléter le tableau suivant en admettant que les quantités de farine, d'œufs et de lait sont proportionnelles au nombre de personnes.

	4 personnes	8 personnes	20 personnes
Farine		0,500 kg	
Œufs			15
Lait	$\frac{1}{2}$ L		

2) Calculer le coût, arrondi au centime, de la recette pour 8 personnes.

On admet que les prix sont proportionnels aux quantités.

On donne : farine : 0,82 € le kilogramme ;

œuf : 2,94 € la douzaine ;

lait : 0,52 € le litre.



3) Votre commerçant accorde une remise exceptionnelle de 15 % sur tous les ingrédients. Calculer le nouveau coût, arrondi au centime, de la recette pour 8 personnes.

(D'après sujet de CAP Secteur 6 - Tertiaire 1 Session Septembre 2003)

Exercice 2

Une caissière vide un panier dans lequel il y a :

- 3 kg de sucre à 1,5 € le kilogramme
- 2 kg de farine à 0,63 € le kilogramme
- 5 douzaines d'œufs à 1,55 € la douzaine
- 8 tablettes de 100 grammes de chocolat à 1,22 € la tablette

1) Quel est le montant de ces achats ?

2) La cliente tend un billet de 50 € pour payer. Combien lui rend-on ?

3) La cliente décide de faire des gâteaux pour la kermesse de l'école. Elle a besoin pour chaque gâteau de : 120 grammes de farine, 175 grammes de sucre, 4 œufs et 120 grammes de chocolat. Combien de gâteaux pourra-t-elle faire avec ses achats ?



(D'après sujet de CAP Secteur 7 - Tertiaire 2 Groupement Sud Session 2002)



Exercice 3

Le 1er septembre 2003, M. Dupont se rend à la librairie Durand à Marseille pour acheter des fournitures scolaires.

1) Compléter le tableau ci-dessous en admettant que les quantités et les montants sont proportionnels.

Article	Quantité	Prix unitaire (€)	Montant (€)
Cahiers	4	1,50	
Classeurs	2		4,76
Chemises	17		2,89
Crayons de couleur		0,11	1,98
Stylos	2		
Feuilles	300	1,20 les 100 feuilles	
Pochettes plastiques		1,99 les 50 pochettes	5,97
		Total HT	30
		TVA (19,6 %)	
		Total TTC	

2) Il bénéficie d'une remise exceptionnelle de 5 % sur le montant total de ses achats. Calculer le montant de la remise ainsi que le prix réellement payé (arrondir au centime).

(D'après sujet de CAP Secteur 6 Tertiaire 1 Groupement Interacadémique Session juin 2004)

Exercice 4

Un traiteur doit préparer de la pâte pour 500 mignardises. Les quantités des ingrédients nécessaires pour 30 mignardises sont indiquées dans le tableau ci-dessous. Compléter le tableau.

Ingrédients	Pour 30 mignardises	Pour 500 mignardises	
Beurre	120 g	2 000 g	2 kg
Sucre	30 g	500 g	kg
Farine	240 g	g	kg
Eau	3 cL	cL	L

(D'après sujet de CAP Secteur 7 Groupement des académies de l'Est Session 2003)

Exercice 5

Un poulet de 1,8 kg est mis à rôtir au four. Il doit être cuit à 13 h.

1) a) Le temps de cuisson est de 50 min/kg. Calculer le temps de cuisson nécessaire pour ce poulet.

b) Exprimer le résultat précédent en heures ; minutes.

2) À quelle heure doit-on le mettre au four ?



(D'après sujet de CAP Secteur 4 Groupement interacadémique II Session 2003)



Exercice 6

On admet que la consommation de carburant d'un véhicule est proportionnelle à la distance parcourue.

1) Compléter le tableau et indiquer les calculs qui ont permis de trouver les résultats :

Distance (km)	150		600
Consommation (L)	12,6	29,4	

2) Quelle est la consommation de ce véhicule, en litres aux 100 km (résultat donné à 0,1 L près) ?

3) Lors d'un déplacement, ce véhicule consomme 30 L à 0,80 € le litre et les frais de péage sont de 12 €. Quel est le coût de ce déplacement ?

(D'après sujet de CAP Secteur 2 Session 2003)

Exercice 7

Sur trois étiquettes des barquettes du rayon « fruits », on lit :

Raisin blanc Poids : 1,740 kg Prix : 3,39 €	Nectarine Poids : 1,115 kg Prix : 1,78 €	Banane Poids : 0,785 kg Prix : 0,87 €
--	---	--

Combien coûte :

- 1) 1 kg de raisin blanc ?
- 2) 1 kg de nectarines ?
- 3) 1 kg de bananes ?



Les résultats seront arrondis au centime d'euro.

(D'après sujet de CAP Secteur 6 Tertiaire 1 Groupement II Session juin 2003)

Exercice 8

Pour préparer un plat, un restaurateur utilise les ingrédients suivants :
Riz, pois, porc et épices.



1) Compléter la facture donnée ci-dessous.

Ingrédients	Quantité en grammes	Quantité en kilogrammes	Prix en euros au kilogramme	Montant en euros
Riz	80		2,50 €	
Pois			6 €	0,18 €
Porc		0,100	10 €	
Epices	15			0,06 €

2) Quel est le coût total des ingrédients nécessaires pour confectionner ce plat ?

(D'après sujet de CAP Secteur 7 Tertiaire II Session juin 2003)



Exercice 9

Madame Calin, maman d'un bébé de 2 mois, se rend au supermarché pour acheter des boîtes de lait en poudre 1^{er} âge. Une boîte contient une masse de 400 g de lait en poudre. La boîte porte les indications suivantes.

TABLEAU D'ALIMENTATION			
Une mesurette correspond à 4,4 g pour 30 mL d'eau.			
Âge	Volume de lait par biberon (en mL)	Nombre de mesurettes par biberon	Nombre de biberons par jour.
0 – 2 semaines	66	2	7
2 – 8 semaines	99	3	6
2 mois	132	4	6
3 mois	165	5	5
4 mois	198	6	5

- 1) Repérer et entourer dans le tableau le volume de lait, par biberon, recommandé pour le bébé de Madame Calin.
- 2) Madame Calin respecte les indications données dans le tableau. Calculer le volume de lait bu par son bébé en un jour.
- 3) Calculer la masse de poudre utilisée en un jour.
- 4) Madame Calin utilise tous les jours la même quantité de poudre. Calculer le nombre de boîtes nécessaires pour nourrir le bébé pendant une semaine.

(D'après sujet de CAP Secteur 4 Groupement des académies de l'Est Session 2004)

Exercice 10

Le salaire horaire d'un ouvrier est majoré de 25 % à partir de la 36^e heure. Le salaire horaire est fixé à 7,20 euros. Calculer son salaire hebdomadaire s'il travaille 40 heures par semaine.

(D'après sujet de CAP Secteur 7 Tertiaire II Session juin 2003)

Exercice 11

Si le montant de l'impôt est de 3 325 € pour un revenu net imposable de 35 880 € calculer le pourcentage de l'impôt par rapport au revenu net imposable de cette famille. Arrondir le résultat au dixième.

(D'après sujet de CAP secteur 2 session 2005)






Exercice 12

La consommation d'un véhicule sur autoroute est de 6 litres de gas-oil aux 100 kilomètres. Sachant que la consommation est proportionnelle au nombre de kilomètres parcourus, le conducteur souhaite connaître la consommation de son véhicule sur un trajet autoroutier entre Toulon et Genève de 550 kilomètres.

1) Compléter le tableau de proportionnalité suivant.

Distance d (km)	100	550
Consommation c (L)	6	



2) Exprimer ce résultat à l'aide d'une phrase.

(D'après sujet de CAP Secteur industriel Session PPQIP février 2006)

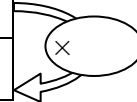
Exercice 13

Monsieur Mentibat, artisan est spécialisé dans l'installation de parabole.


1) Mesurer, en cm, la hauteur h de la parabole sur le schéma.

2) Utiliser le tableau ci-dessous pour déterminer l'échelle à laquelle est représentée la parabole si sa hauteur réelle est égale à 80 cm.

	hauteur de la parabole (en cm)	échelle
schéma		1
réalité	80	



échelle : 1 :



(D'après sujet de CAP Secteur 2 Session septembre 2006)



Exercice 14

Le prix de l'électricité est de 0,12 € le kilowattheure (kWh). On désigne par :

E l'énergie consommée en kWh,

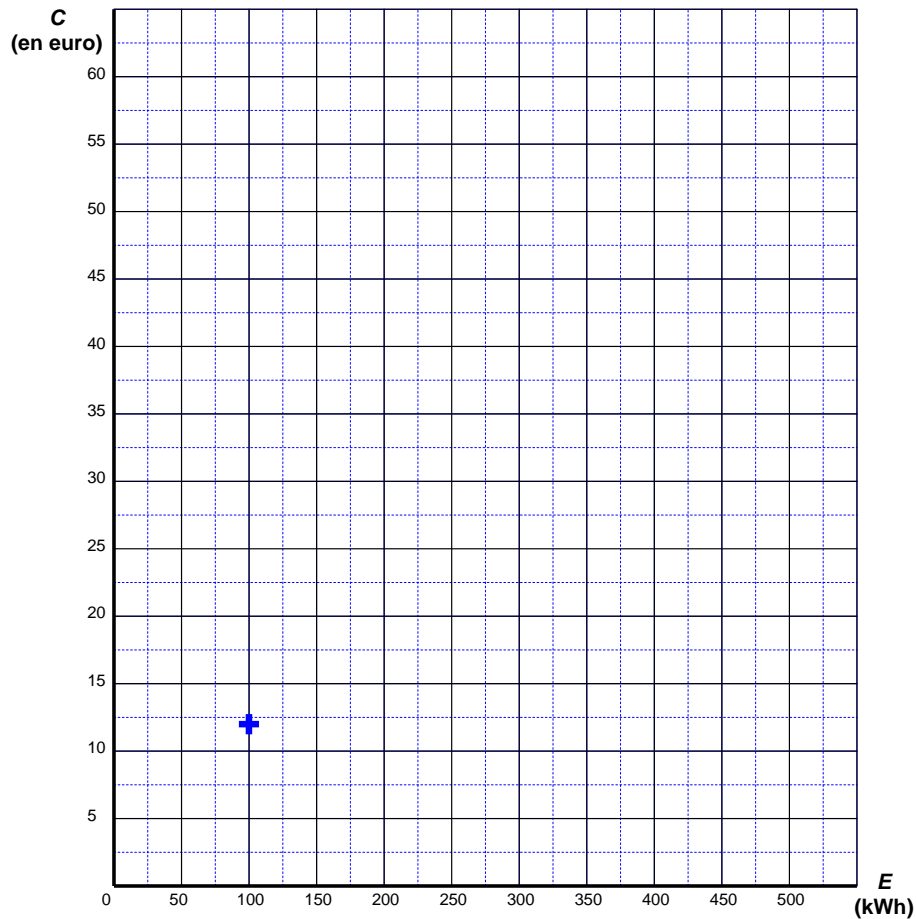
C le montant de la consommation en euro.



1) Compléter le tableau suivant :

E (en kWh)	0	100	300	500
C (en €)	12	30	60

2) Placer sur le repère suivant, les points de coordonnées (E ; C) du tableau.



3) Relier tous les points. Caractériser la courbe obtenue.

4) Déterminer graphiquement la valeur de E pour $C = 27$ €. Laisser apparents les traits utiles à la lecture. Répondre par une phrase.

5) Vérifier par un calcul le résultat précédent. Justifier la réponse.

(D'après sujet de CAP Secteur 3 Métropole, Réunion, Mayotte Session septembre 2008)



Exercice 15

Lors d'une expérience sur un circuit électrique, on a relevé un certain nombre de mesures dont les valeurs sont regroupées dans le tableau suivant :

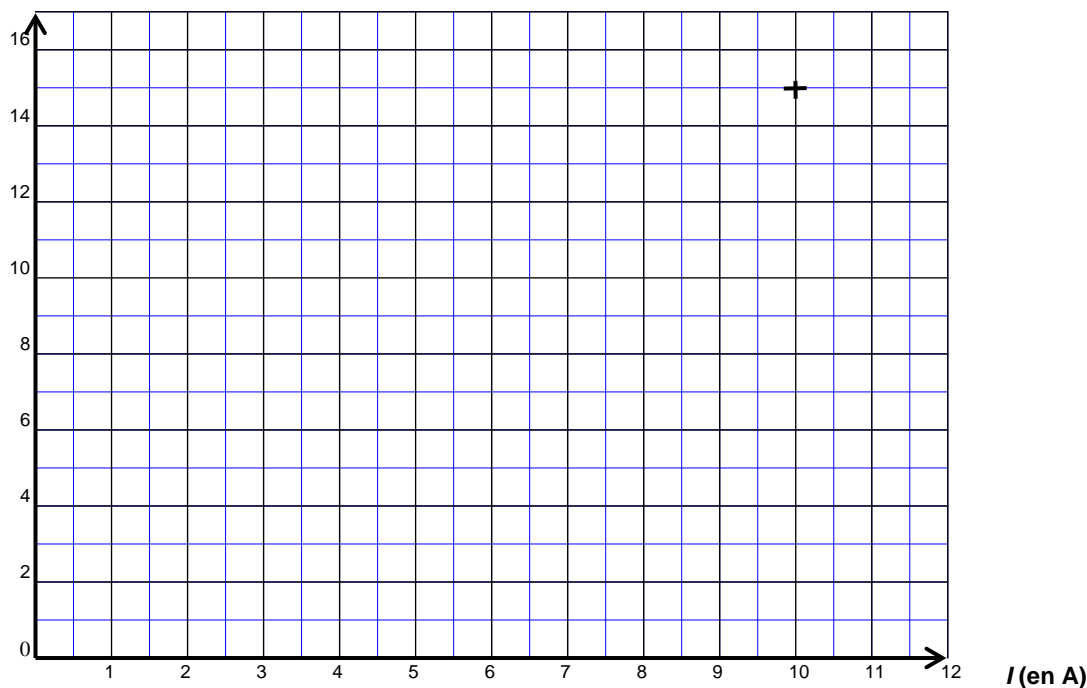
Intensité du courant I en ampère (A)	2	3	5	7	10
Tension électrique U en volt (V)	3	4,5	7,5	10,5	15

1) L'intensité et la tension sont des grandeurs proportionnelles.

Calculer le coefficient de proportionnalité k .

2) Dans le plan rapporté au repère ci-dessous, placer les points de coordonnées $(I ; U)$ pour les valeurs du tableau, puis tracer la représentation graphique donnant U en fonction de I , pour I compris entre 0 et 10.

U (en V)



3) À l'aide de la représentation graphique ci-dessus :

a) Déterminer la tension U correspondant à une intensité de courant $I = 9$ A.

Laisser apparents les traits utiles à la lecture.

b) Déterminer l'intensité correspondant à une tension de 6 V.

Laisser apparents les traits utiles à la lecture.

(D'après sujet de CAP Secteur 7 Métropole- La Réunion – Mayotte Session juin 2009)



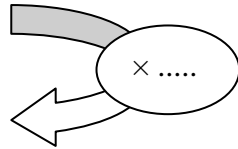
Exercice 16

Le restaurateur souhaite également calculer le coût du transport des denrées qu'il utilise dans son restaurant. Son véhicule consomme en moyenne 8 L de carburant pour 100 km parcourus.

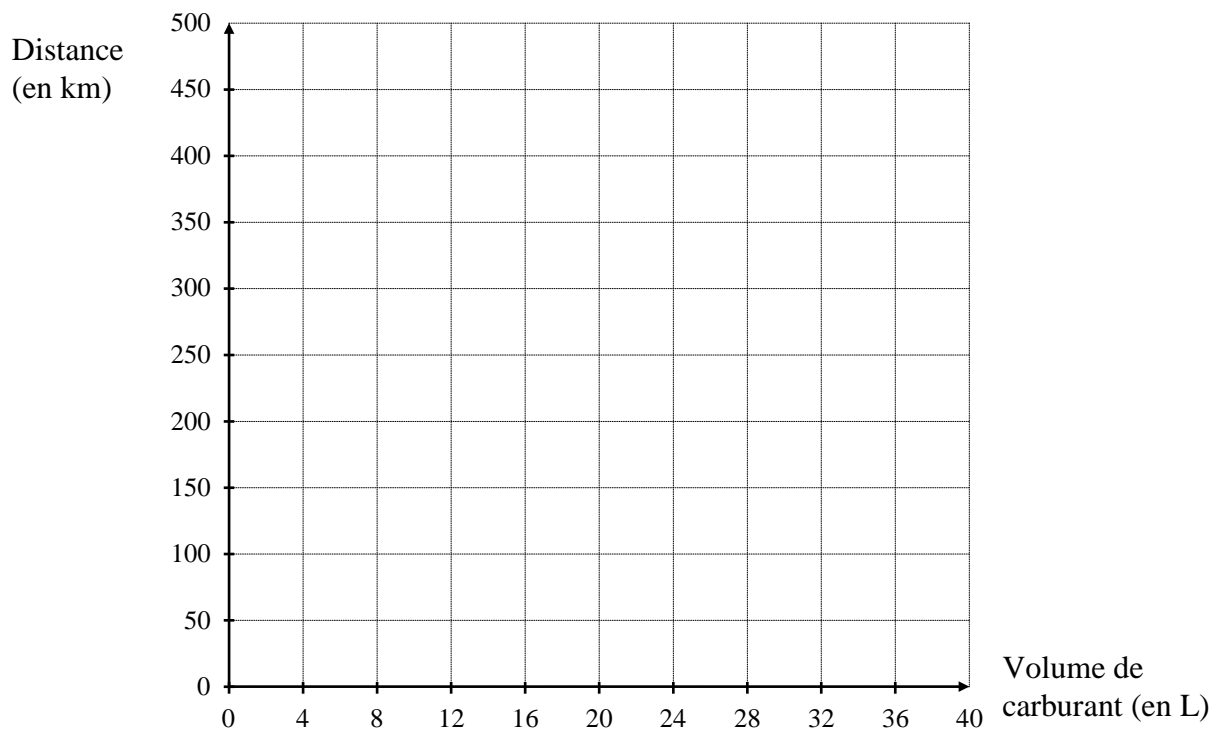
1) La distance parcourue y est proportionnelle au volume x de carburant consommé.

Compléter le tableau suivant :

x : volume de carburant consommé (en L)	0	8	12	16	40
y : distance parcourue (en km)	100	200	250



2) Placer les points de coordonnées $(x ; y)$ du tableau précédent dans le repère ci-dessous :



3) Tracer la droite D passant par l'ensemble de ces points.

4) a) Déterminer graphiquement l'abscisse du point de la droite ayant pour ordonnée $y = 400$. Laisser apparents les traits nécessaires à la lecture.

b) En déduire le volume de carburant consommé pour parcourir une distance de 400 km.

5) Le restaurateur parcourt environ 400 km par semaine pour s'approvisionner.

Le carburant coûte 1,25 € le litre, calculer le coût en carburant du transport de marchandises.

(D'après sujet de CAP Secteur 2 Métropole – la Réunion – Mayotte Session juin 2009)



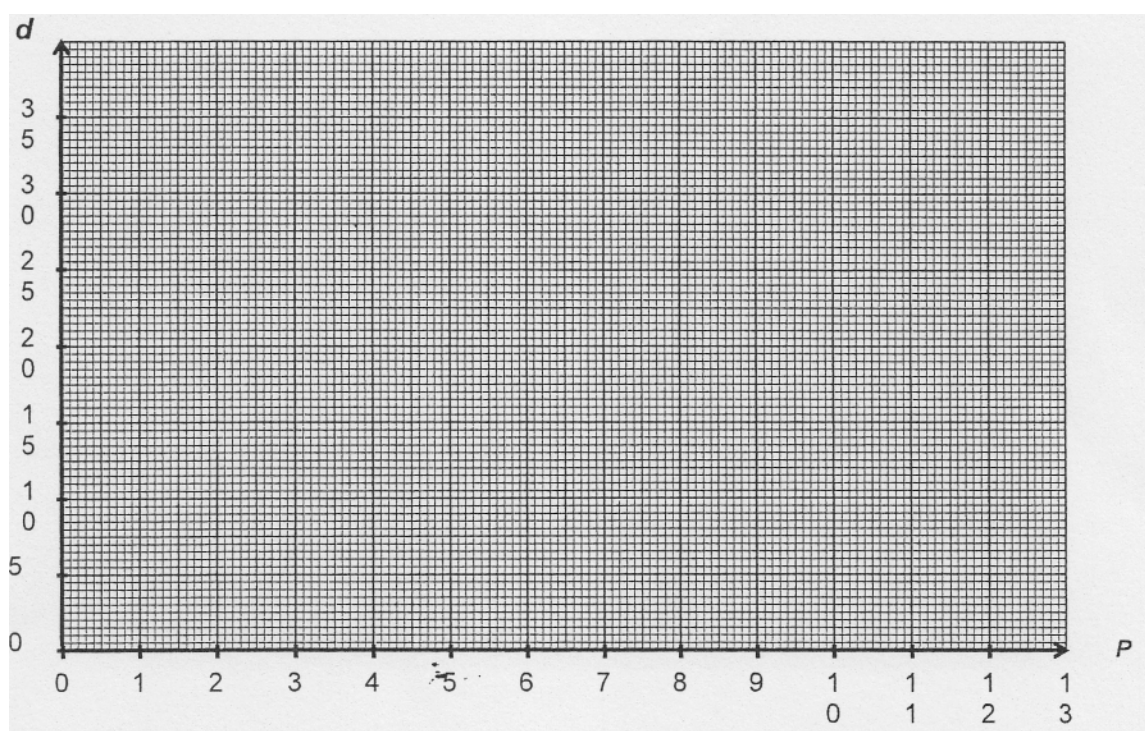
Exercice 17

Un client s'interroge sur la signification du terme "pouce" indiqué sur les cadres. Monsieur Oloncour lui explique que le pouce est une unité de longueur et que la dimension de la diagonale de l'écran peut être exprimée en centimètre (d) ou en pouce (p). Les deux dimensions sont proportionnelles et vérifient la relation : $d = 2,5 \times p$

1) Compléter le tableau de valeurs suivant.

Dimension en pouce (p)	4	8	10	12
Dimension en cm (d)	10	30

2) Placer les points du tableau précédent dans le repère ci-dessous. Tracer la droite passant par ces points.



3) Expliquer pourquoi ces points sont alignés et que la droite passe par l'origine du repère.

4) En utilisant la représentation graphique de la question, donner la valeur en pouce de la diagonale d'un écran qui a pour valeur 17,55 cm. Laisser apparents les traits utiles à la lecture.

(D'après sujet de CAP Secteur 3 Métropole – Réunion – Mayotte Session juin 2009)

Exercice 18

Dans un pressing, pour le nettoyage à sec on utilise le solvant Novaclin Bak en circuit fermé. La machine consomme 83 mL de Novaclin lors du lavage de 8 kg de vêtements. Calculer le nombre de lavage qui est possible de réaliser avec un bidon de 5L de Novaclin.

(D'après sujet de CAP Métiers de la mode Académie de Grenoble Session juin 2009)